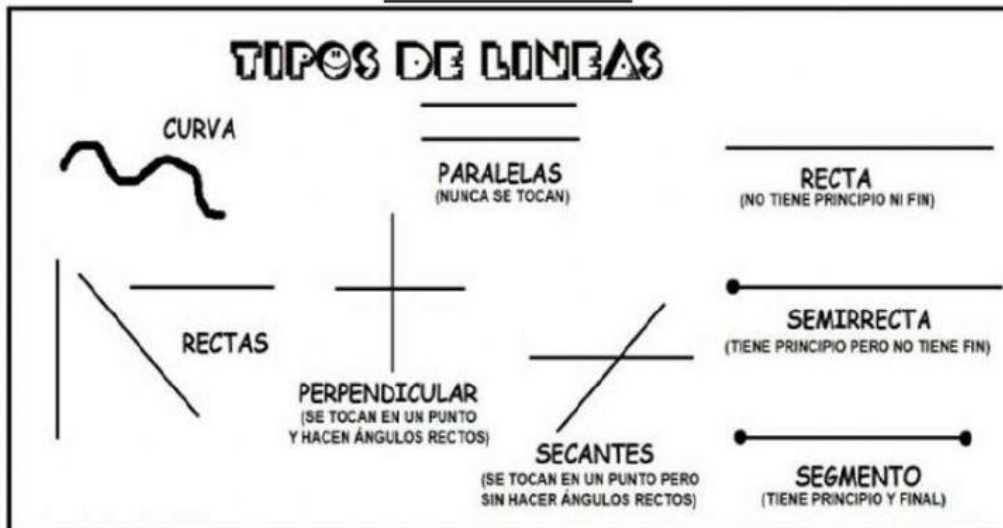


GEOMETRÍA: RECTAS



Elige la respuesta correcta Coloca una B en la respuesta correcta y una M en la incorrecta

• ¿Qué diferencia hay entre rectas paralelas y secantes?

- Las paralelas no se tocan nunca y las secantes se cortan en un punto
- Las paralelas sirven para parar golpes y las secantes para secar la ropa
- Las paralelas no se tocan y las secantes no son rectas

• ¿Las perpendiculares son también secantes?

- No, no se parecen en nada
- Sí porque se cortan en un punto
- No, las rectas secantes no existen

ESTE ES EL PLANO POR DONDE MARTIN ANDA EN BICICLETA EN SU CIUDAD.

Observa este plano y contesta:
V si es verdadero o F si es falso.

X e Y son rectas paralelas

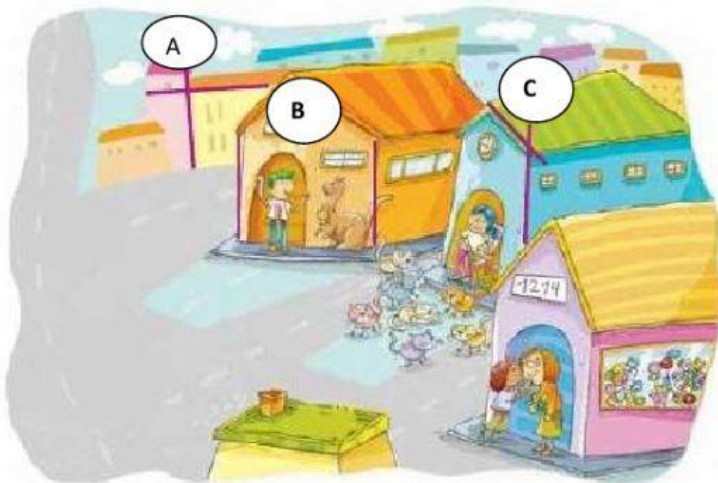
W y X son rectas perpendiculares

Z e Y son rectas paralelas

X y Z son rectas paralelas

Z y W son rectas perpendiculares

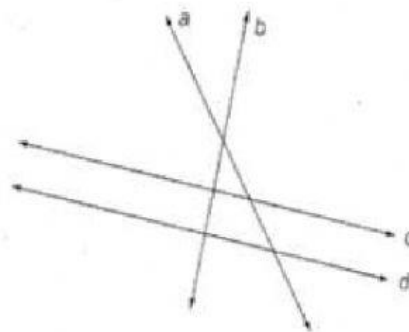
EN ESTE DIBUJO SE HAN MARCADO DISTINTAS RECTAS IDENTIFICA QUE TIPO DE RECTAS SON



A	_____
B	_____
C	_____

Observa las rectas y completa.

- a y b son rectas
- c y d son rectas
- b y c son rectas
- a y d son rectas



TRAZA LAS RECTAS ENTRE LOS PUNTOS Y ESCRIBE VERDADERO O FALSO AL INTERROGANTE.

- ¿ \overline{AY} y \overline{XK} son paralelas?
- ¿ \overline{AX} y \overline{YK} son secantes?
- ¿ \overline{AK} y \overline{XY} son perpendiculares?

